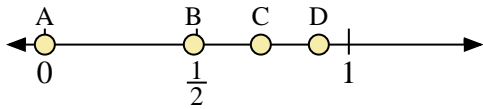
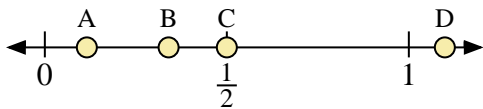




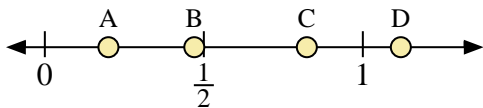
Benutze den Zahlenstrahl um die Lösung zu ermitteln.



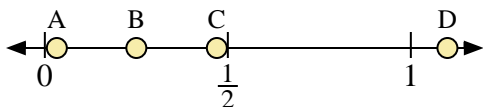
- 1) Welcher Buchstabe stellt die richtige Lage von 0,0 dar?
- 2) Welcher Buchstabe stellt die richtige Lage von 0,49 dar?



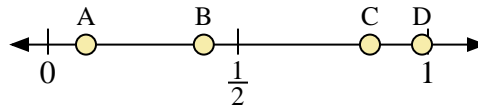
- 5) Welcher Buchstabe stellt die richtige Lage von 0,50 dar?
- 6) Welcher Buchstabe stellt die richtige Lage von 0,34 dar?



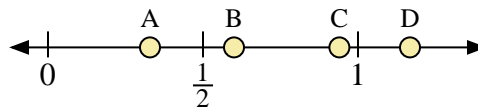
- 9) Welcher Buchstabe stellt die richtige Lage von 0,2 dar?
- 10) Welcher Buchstabe stellt die richtige Lage von 0,47 dar?



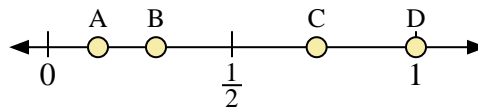
- 13) Welcher Buchstabe stellt die richtige Lage von 1,10 dar?
- 14) Welcher Buchstabe stellt die richtige Lage von 0,25 dar?



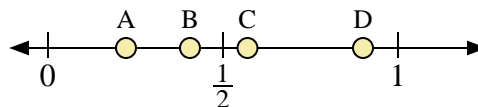
- 3) Welcher Buchstabe stellt die richtige Lage von 0,1 dar?
- 4) Welcher Buchstabe stellt die richtige Lage von 0,41 dar?



- 7) Welcher Buchstabe stellt die richtige Lage von 0,6 dar?
- 8) Welcher Buchstabe stellt die richtige Lage von 0,94 dar?



- 11) Welcher Buchstabe stellt die richtige Lage von 1,0 dar?
- 12) Welcher Buchstabe stellt die richtige Lage von 0,73 dar?



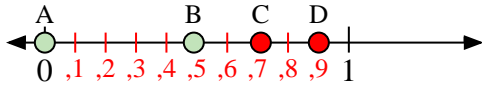
- 15) Welcher Buchstabe stellt die richtige Lage von 0,90 dar?
- 16) Welcher Buchstabe stellt die richtige Lage von 0,57 dar?

**Antworten**

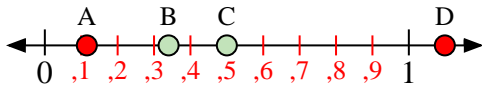
1. \_\_\_\_\_
2. \_\_\_\_\_
3. \_\_\_\_\_
4. \_\_\_\_\_
5. \_\_\_\_\_
6. \_\_\_\_\_
7. \_\_\_\_\_
8. \_\_\_\_\_
9. \_\_\_\_\_
10. \_\_\_\_\_
11. \_\_\_\_\_
12. \_\_\_\_\_
13. \_\_\_\_\_
14. \_\_\_\_\_
15. \_\_\_\_\_
16. \_\_\_\_\_



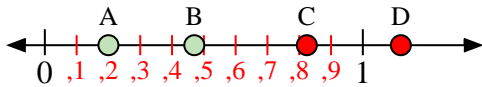
Benutze den Zahlenstrahl um die Lösung zu ermitteln.



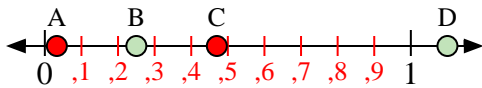
- 1) Welcher Buchstabe stellt die richtige Lage von 0,0 dar?
- 2) Welcher Buchstabe stellt die richtige Lage von 0,49 dar?



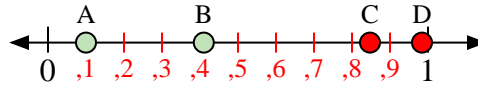
- 5) Welcher Buchstabe stellt die richtige Lage von 0,50 dar?
- 6) Welcher Buchstabe stellt die richtige Lage von 0,34 dar?



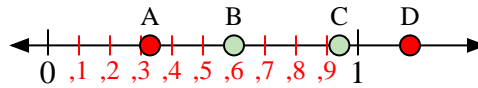
- 9) Welcher Buchstabe stellt die richtige Lage von 0,2 dar?
- 10) Welcher Buchstabe stellt die richtige Lage von 0,47 dar?



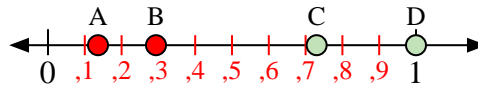
- 13) Welcher Buchstabe stellt die richtige Lage von 1,10 dar?
- 14) Welcher Buchstabe stellt die richtige Lage von 0,25 dar?



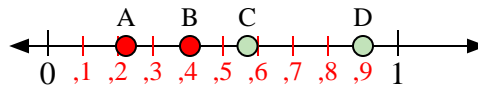
- 3) Welcher Buchstabe stellt die richtige Lage von 0,1 dar?
- 4) Welcher Buchstabe stellt die richtige Lage von 0,41 dar?



- 7) Welcher Buchstabe stellt die richtige Lage von 0,6 dar?
- 8) Welcher Buchstabe stellt die richtige Lage von 0,94 dar?



- 11) Welcher Buchstabe stellt die richtige Lage von 1,0 dar?
- 12) Welcher Buchstabe stellt die richtige Lage von 0,73 dar?



- 15) Welcher Buchstabe stellt die richtige Lage von 0,90 dar?
- 16) Welcher Buchstabe stellt die richtige Lage von 0,57 dar?

**Antworten**

1. **A**
2. **B**
3. **A**
4. **B**
5. **C**
6. **B**
7. **B**
8. **C**
9. **A**
10. **B**
11. **D**
12. **C**
13. **D**
14. **B**
15. **D**
16. **C**