



Bestimme, ob der gezeigte Winkel 'mehr', 'weniger' oder 'gleich' 90° ist.

**Antworten**

Bsp)



1)



2)



Bsp. weniger

1. \_\_\_\_\_

2. \_\_\_\_\_

3. \_\_\_\_\_

4. \_\_\_\_\_

5. \_\_\_\_\_

6. \_\_\_\_\_

7. \_\_\_\_\_

8. \_\_\_\_\_

9. \_\_\_\_\_

10. \_\_\_\_\_

11. \_\_\_\_\_

12. \_\_\_\_\_

13. \_\_\_\_\_

14. \_\_\_\_\_

15. \_\_\_\_\_

16. \_\_\_\_\_

17. \_\_\_\_\_

18. \_\_\_\_\_

19. \_\_\_\_\_

20. \_\_\_\_\_

3)



4)



5)



6)



7)



8)



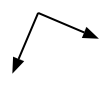
9)



10)



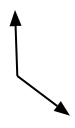
11)



12)



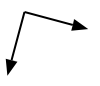
13)



14)



15)



16)



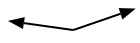
17)



18)



19)



20)





Bestimme, ob der gezeigte Winkel 'mehr', 'weniger' oder 'gleich' 90° ist.

Antworten

Bsp)



1)



2)



Bsp. weniger

1. mehr

2. weniger

3. mehr

4. gleich

5. weniger

6. weniger

7. gleich

8. weniger

9. gleich

10. weniger

11. gleich

12. weniger

13. mehr

14. mehr

15. gleich

16. weniger

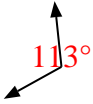
17. mehr

18. mehr

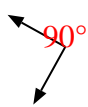
19. mehr

20. gleich

3)



4)



5)



6)



7)



8)



9)



10)



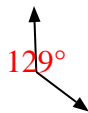
11)



12)



13)



14)



15)



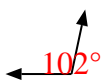
16)



17)



18)



19)



20)

