



Bestimme, ob der gezeigte Winkel 'mehr', 'weniger' oder 'gleich' 90° ist.

Bsp)



1)



2)



**Antworten**

Bsp. gleich

1. \_\_\_\_\_

2. \_\_\_\_\_

3. \_\_\_\_\_

4. \_\_\_\_\_

5. \_\_\_\_\_

6. \_\_\_\_\_

7. \_\_\_\_\_

8. \_\_\_\_\_

9. \_\_\_\_\_

10. \_\_\_\_\_

11. \_\_\_\_\_

12. \_\_\_\_\_

13. \_\_\_\_\_

14. \_\_\_\_\_

15. \_\_\_\_\_

16. \_\_\_\_\_

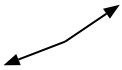
17. \_\_\_\_\_

18. \_\_\_\_\_

19. \_\_\_\_\_

20. \_\_\_\_\_

3)



4)



5)



6)



7)



8)



9)



10)



11)



12)



13)



14)



15)



16)



17)



18)



19)



20)





Bestimme, ob der gezeigte Winkel 'mehr', 'weniger' oder 'gleich' 90° ist.

Bsp)



1)



2)

AntwortenBsp. gleich1. gleich2. gleich3. mehr4. gleich5. mehr6. weniger7. weniger8. gleich9. mehr10. gleich11. weniger12. mehr13. weniger14. weniger15. weniger16. weniger17. weniger18. gleich19. gleich20. mehr

3)



4)



5)



6)



7)



8)



9)



10)



11)



12)



13)



14)



15)



16)



17)



18)



19)



20)





Bestimme, ob der gezeigte Winkel 'mehr', 'weniger' oder 'gleich' 90° ist.

Bsp)



1)



2)



Antworten

Bsp. mehr

1. \_\_\_\_\_

2. \_\_\_\_\_

3. \_\_\_\_\_

4. \_\_\_\_\_

5. \_\_\_\_\_

6. \_\_\_\_\_

7. \_\_\_\_\_

8. \_\_\_\_\_

9. \_\_\_\_\_

10. \_\_\_\_\_

11. \_\_\_\_\_

12. \_\_\_\_\_

13. \_\_\_\_\_

14. \_\_\_\_\_

15. \_\_\_\_\_

16. \_\_\_\_\_

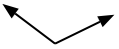
17. \_\_\_\_\_

18. \_\_\_\_\_

19. \_\_\_\_\_

20. \_\_\_\_\_

3)



4)



5)



6)



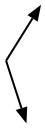
7)



8)



9)



10)



11)



12)



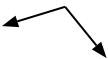
13)



14)



15)



16)



17)



18)



19)



20)





Bestimme, ob der gezeigte Winkel 'mehr', 'weniger' oder 'gleich' 90° ist.

Bsp)



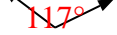
1)



2)

**Antworten**Bsp. mehr1. weniger2. gleich3. mehr4. gleich5. gleich6. weniger7. weniger8. weniger9. mehr10. weniger11. mehr12. weniger13. gleich14. gleich15. mehr16. weniger17. gleich18. gleich19. weniger20. mehr

3)



4)



5)



6)



7)



8)



9)



10)



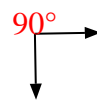
11)



12)



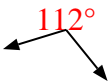
13)



14)



15)



16)



17)



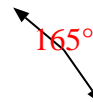
18)



19)

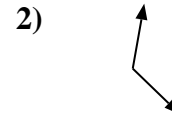
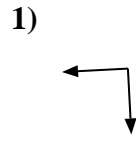


20)



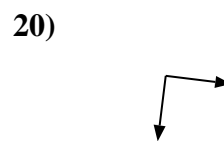
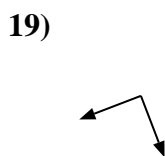
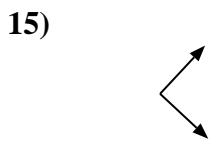
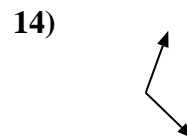
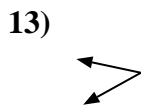
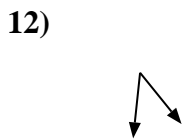
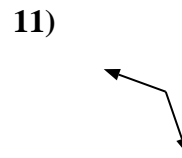
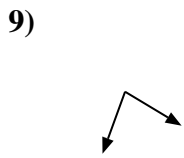
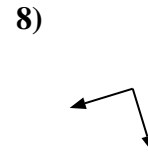
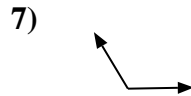
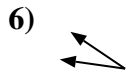
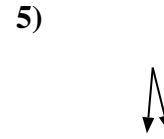
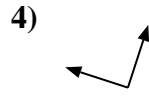


Bestimme, ob der gezeigte Winkel 'mehr', 'weniger' oder 'gleich' 90° ist.



Antworten  
Bsp. **weniger**

- 1. \_\_\_\_\_
- 2. \_\_\_\_\_
- 3. \_\_\_\_\_
- 4. \_\_\_\_\_
- 5. \_\_\_\_\_
- 6. \_\_\_\_\_
- 7. \_\_\_\_\_
- 8. \_\_\_\_\_
- 9. \_\_\_\_\_
- 10. \_\_\_\_\_
- 11. \_\_\_\_\_
- 12. \_\_\_\_\_
- 13. \_\_\_\_\_
- 14. \_\_\_\_\_
- 15. \_\_\_\_\_
- 16. \_\_\_\_\_
- 17. \_\_\_\_\_
- 18. \_\_\_\_\_
- 19. \_\_\_\_\_
- 20. \_\_\_\_\_





Bestimme, ob der gezeigte Winkel 'mehr', 'weniger' oder 'gleich' 90° ist.

Bsp)



1)



2)

**Antworten**Bsp. weniger1. gleich2. mehr3. gleich4. gleich5. weniger6. weniger7. mehr8. gleich9. weniger10. mehr11. mehr12. weniger13. weniger14. mehr15. gleich16. weniger17. mehr18. gleich19. gleich20. gleich

3)



4)



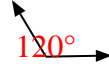
5)



6)



7)



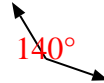
8)



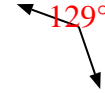
9)



10)



11)



12)



13)



14)



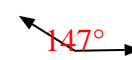
15)



16)



17)



18)



19)



20)





Bestimme, ob der gezeigte Winkel 'mehr', 'weniger' oder 'gleich' 90° ist.

Bsp)



1)



2)



Antworten

Bsp. gleich

1. \_\_\_\_\_

2. \_\_\_\_\_

3. \_\_\_\_\_

4. \_\_\_\_\_

5. \_\_\_\_\_

6. \_\_\_\_\_

7. \_\_\_\_\_

8. \_\_\_\_\_

9. \_\_\_\_\_

10. \_\_\_\_\_

11. \_\_\_\_\_

12. \_\_\_\_\_

13. \_\_\_\_\_

14. \_\_\_\_\_

15. \_\_\_\_\_

16. \_\_\_\_\_

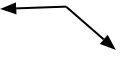
17. \_\_\_\_\_

18. \_\_\_\_\_

19. \_\_\_\_\_

20. \_\_\_\_\_

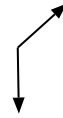
3)



4)



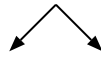
5)



6)



7)



8)



9)



10)



11)



12)



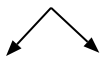
13)



14)



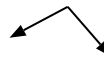
15)



16)



17)



18)



19)



20)





Bestimme, ob der gezeigte Winkel 'mehr', 'weniger' oder 'gleich' 90° ist.

Bsp)



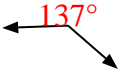
1)



2)

**Antworten**Bsp. gleich1. weniger2. gleich3. mehr4. gleich5. mehr6. gleich7. gleich8. mehr9. mehr10. weniger11. mehr12. mehr13. weniger14. gleich15. gleich16. weniger17. mehr18. gleich19. weniger20. weniger

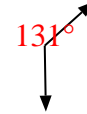
3)



4)



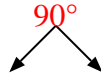
5)



6)



7)



8)



9)



10)



11)



12)



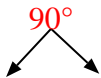
13)



14)



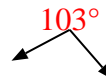
15)



16)



17)



18)



19)



20)







Bestimme, ob der gezeigte Winkel 'mehr', 'weniger' oder 'gleich' 90° ist.

Bsp)



1)



2)



**Antworten**

Bsp. weniger

1. \_\_\_\_\_

2. \_\_\_\_\_

3. \_\_\_\_\_

4. \_\_\_\_\_

5. \_\_\_\_\_

6. \_\_\_\_\_

7. \_\_\_\_\_

8. \_\_\_\_\_

9. \_\_\_\_\_

10. \_\_\_\_\_

11. \_\_\_\_\_

12. \_\_\_\_\_

13. \_\_\_\_\_

14. \_\_\_\_\_

15. \_\_\_\_\_

16. \_\_\_\_\_

17. \_\_\_\_\_

18. \_\_\_\_\_

19. \_\_\_\_\_

20. \_\_\_\_\_

3)



4)



5)



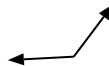
6)



7)



8)



9)



10)



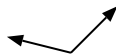
11)



12)



13)



14)



15)



16)



17)



18)



19)



20)





Bestimme, ob der gezeigte Winkel 'mehr', 'weniger' oder 'gleich' 90° ist.

Bsp)



1)



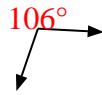
2)

**Antworten**Bsp. weniger1. gleich2. weniger3. mehr4. mehr5. mehr6. gleich7. mehr8. mehr9. gleich10. weniger11. weniger12. gleich13. mehr14. weniger15. gleich16. weniger17. gleich18. mehr19. weniger20. weniger

3)



4)




5)



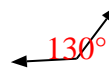
6)



7)



8)



9)



10)




11)



12)



13)



14)



15)



16)



17)



18)



19)



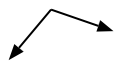
20)





Bestimme, ob der gezeigte Winkel 'mehr', 'weniger' oder 'gleich' 90° ist.

Bsp)



1)



2)



**Antworten**

Bsp. mehr

1. \_\_\_\_\_

2. \_\_\_\_\_

3. \_\_\_\_\_

4. \_\_\_\_\_

5. \_\_\_\_\_

6. \_\_\_\_\_

7. \_\_\_\_\_

8. \_\_\_\_\_

9. \_\_\_\_\_

10. \_\_\_\_\_

11. \_\_\_\_\_

12. \_\_\_\_\_

13. \_\_\_\_\_

14. \_\_\_\_\_

15. \_\_\_\_\_

16. \_\_\_\_\_

17. \_\_\_\_\_

18. \_\_\_\_\_

19. \_\_\_\_\_

20. \_\_\_\_\_

3)



4)



5)



6)



7)



8)



9)



10)



11)



12)



13)



14)



15)



16)



17)



18)



19)



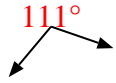
20)



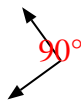


Bestimme, ob der gezeigte Winkel 'mehr', 'weniger' oder 'gleich' 90° ist.

Bsp)



1)



2)

AntwortenBsp. mehr1. gleich2. weniger3. weniger4. gleich5. weniger6. mehr7. mehr8. mehr9. weniger10. gleich11. weniger12. weniger13. gleich14. gleich15. weniger16. mehr17. weniger18. gleich19. mehr20. gleich

3)



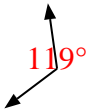
4)



5)



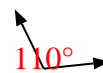
6)



7)



8)



9)



10)



11)



12)



13)



14)



15)



16)



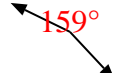
17)



18)



19)



20)





Bestimme, ob der gezeigte Winkel 'mehr', 'weniger' oder 'gleich' 90° ist.

Bsp)



1)



2)



Antworten

Bsp. mehr

1. \_\_\_\_\_

2. \_\_\_\_\_

3. \_\_\_\_\_

4. \_\_\_\_\_

5. \_\_\_\_\_

6. \_\_\_\_\_

7. \_\_\_\_\_

8. \_\_\_\_\_

9. \_\_\_\_\_

10. \_\_\_\_\_

11. \_\_\_\_\_

12. \_\_\_\_\_

13. \_\_\_\_\_

14. \_\_\_\_\_

15. \_\_\_\_\_

16. \_\_\_\_\_

17. \_\_\_\_\_

18. \_\_\_\_\_

19. \_\_\_\_\_

20. \_\_\_\_\_

3)



4)



5)



6)



7)



8)



9)



10)



11)



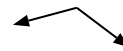
12)



13)



14)



15)



16)



17)



18)



19)



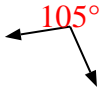
20)





Bestimme, ob der gezeigte Winkel 'mehr', 'weniger' oder 'gleich' 90° ist.

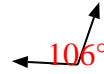
Bsp)



1)



2)

AntwortenBsp. mehr1. gleich2. mehr3. gleich4. weniger5. gleich6. gleich7. weniger8. mehr9. weniger10. weniger11. weniger12. gleich13. weniger14. mehr15. mehr16. gleich17. mehr18. weniger19. gleich20. mehr

3)



4)



5)



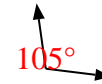
6)



7)



8)



9)



10)



11)



12)



13)



14)



15)



16)



17)



18)



19)



20)





Bestimme, ob der gezeigte Winkel 'mehr', 'weniger' oder 'gleich' 90° ist.

Bsp)



1)



2)



**Antworten**

Bsp. gleich

1. \_\_\_\_\_

2. \_\_\_\_\_

3. \_\_\_\_\_

4. \_\_\_\_\_

5. \_\_\_\_\_

6. \_\_\_\_\_

7. \_\_\_\_\_

8. \_\_\_\_\_

9. \_\_\_\_\_

10. \_\_\_\_\_

11. \_\_\_\_\_

12. \_\_\_\_\_

13. \_\_\_\_\_

14. \_\_\_\_\_

15. \_\_\_\_\_

16. \_\_\_\_\_

17. \_\_\_\_\_

18. \_\_\_\_\_

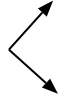
19. \_\_\_\_\_

20. \_\_\_\_\_

3)



4)



5)



6)



7)



8)



9)



10)



11)



12)



13)



14)



15)



16)



17)



18)



19)



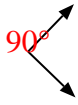
20)





Bestimme, ob der gezeigte Winkel 'mehr', 'weniger' oder 'gleich' 90° ist.

Bsp)



1)



2)

**Antworten**Bsp. gleich1. weniger2. weniger3. gleich4. gleich5. gleich6. mehr7. weniger8. gleich9. mehr10. weniger11. mehr12. gleich13. mehr14. mehr15. weniger16. weniger17. gleich18. mehr19. mehr20. weniger

3)



4)



5)



6)



7)



8)



9)



10)



11)




12)



13)



14)



15)



16)



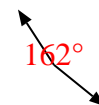
17)



18)



19)



20)







Bestimme, ob der gezeigte Winkel 'mehr', 'weniger' oder 'gleich' 90° ist.

Bsp)



1)



2)



**Antworten**

Bsp. weniger

1. \_\_\_\_\_

2. \_\_\_\_\_

3. \_\_\_\_\_

4. \_\_\_\_\_

5. \_\_\_\_\_

6. \_\_\_\_\_

7. \_\_\_\_\_

8. \_\_\_\_\_

9. \_\_\_\_\_

10. \_\_\_\_\_

11. \_\_\_\_\_

12. \_\_\_\_\_

13. \_\_\_\_\_

14. \_\_\_\_\_

15. \_\_\_\_\_

16. \_\_\_\_\_

17. \_\_\_\_\_

18. \_\_\_\_\_

19. \_\_\_\_\_

20. \_\_\_\_\_

3)



4)



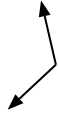
5)



6)



7)



8)



9)



10)



11)



12)



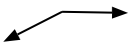
13)



14)



15)



16)



17)



18)



19)



20)



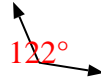


Bestimme, ob der gezeigte Winkel 'mehr', 'weniger' oder 'gleich' 90° ist.

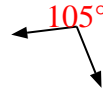
Bsp)



1)



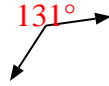
2)

**Antworten**Bsp. weniger1. mehr2. mehr3. weniger4. mehr5. mehr6. gleich7. mehr8. weniger9. weniger10. gleich11. gleich12. weniger13. gleich14. gleich15. mehr16. weniger17. gleich18. gleich19. gleich20. weniger

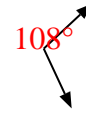
3)



4)



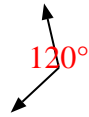
5)



6)



7)



8)



9)



10)



11)



12)




13)



14)



15)



16)



17)



18)



19)



20)





Bestimme, ob der gezeigte Winkel 'mehr', 'weniger' oder 'gleich' 90° ist.

Bsp)



1)



2)



**Antworten**

Bsp. gleich

1. \_\_\_\_\_

2. \_\_\_\_\_

3. \_\_\_\_\_

4. \_\_\_\_\_

5. \_\_\_\_\_

6. \_\_\_\_\_

7. \_\_\_\_\_

8. \_\_\_\_\_

9. \_\_\_\_\_

10. \_\_\_\_\_

11. \_\_\_\_\_

12. \_\_\_\_\_

13. \_\_\_\_\_

14. \_\_\_\_\_

15. \_\_\_\_\_

16. \_\_\_\_\_

17. \_\_\_\_\_

18. \_\_\_\_\_

19. \_\_\_\_\_

20. \_\_\_\_\_

3)



4)



5)



6)



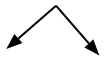
7)



8)



9)



10)



11)



12)



13)



14)



15)



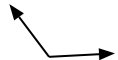
16)



17)



18)



19)



20)





Bestimme, ob der gezeigte Winkel 'mehr', 'weniger' oder 'gleich' 90° ist.

Bsp)



1)



2)

**Antworten**Bsp. gleich1. weniger2. weniger3. weniger4. mehr5. mehr6. weniger7. weniger8. mehr9. gleich10. gleich11. gleich12. weniger13. gleich14. gleich15. mehr16. weniger17. gleich18. mehr19. mehr20. weniger

3)



4)



5)



6)



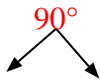
7)



8)



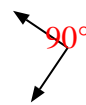
9)



10)



11)



12)



13)



14)



15)



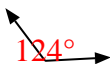
16)



17)



18)



19)



20)

