



Bestimme, ob der gezeigte Winkel 'mehr', 'weniger' oder 'gleich' 90° ist.

Bsp)



1)



2)



Antworten

Bsp. weniger

1. _____

2. _____

3. _____

4. _____

5. _____

6. _____

7. _____

8. _____

9. _____

10. _____

11. _____

12. _____

13. _____

14. _____

15. _____

16. _____

17. _____

18. _____

19. _____

20. _____

3)



4)



5)



6)



7)



8)



9)



10)



11)



12)



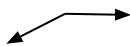
13)



14)



15)



16)



17)



18)



19)



20)



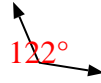


Bestimme, ob der gezeigte Winkel 'mehr', 'weniger' oder 'gleich' 90° ist.

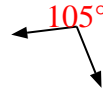
Bsp)



1)



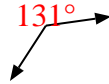
2)

**Antworten**Bsp. weniger1. mehr2. mehr3. weniger4. mehr5. mehr6. gleich7. mehr8. weniger9. weniger10. gleich11. gleich12. weniger13. gleich14. gleich15. mehr16. weniger17. gleich18. gleich19. gleich20. weniger

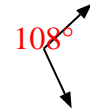
3)



4)



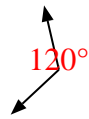
5)



6)



7)



8)



9)



10)



11)



12)




13)



14)



15)



16)



17)



18)



19)



20)

