



Bestimme, ob der gezeigte Winkel 'mehr', 'weniger' oder 'gleich' 90° ist.

Bsp)



1)



2)



Antworten

Bsp. mehr

1. _____

2. _____

3. _____

4. _____

5. _____

6. _____

7. _____

8. _____

9. _____

10. _____

11. _____

12. _____

13. _____

14. _____

15. _____

16. _____

17. _____

18. _____

19. _____

20. _____

3)



4)



5)



6)



7)



8)



9)



10)



11)



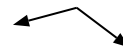
12)



13)



14)



15)



16)



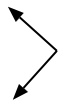
17)



18)



19)



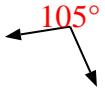
20)





Bestimme, ob der gezeigte Winkel 'mehr', 'weniger' oder 'gleich' 90° ist.

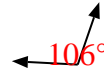
Bsp)



1)



2)

**Antworten**Bsp. mehr1. gleich2. mehr3. gleich4. weniger5. gleich6. gleich7. weniger8. mehr9. weniger10. weniger11. weniger12. gleich13. weniger14. mehr15. mehr16. gleich17. mehr18. weniger19. gleich20. mehr

3)



4)



5)



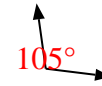
6)



7)



8)



9)



10)



11)



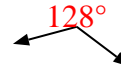
12)



13)



14)



15)



16)



17)



18)



19)



20)

