



Bestimme, ob der gezeigte Winkel 'mehr', 'weniger' oder 'gleich' 90° ist.

Bsp)



1)



2)



Antworten

Bsp. **weniger**

1. _____

2. _____

3. _____

4. _____

5. _____

6. _____

7. _____

8. _____

9. _____

10. _____

11. _____

12. _____

13. _____

14. _____

15. _____

16. _____

17. _____

18. _____

19. _____

20. _____

3)



4)



5)



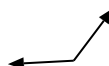
6)



7)



8)



9)



10)



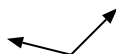
11)



12)



13)



14)



15)



16)



17)



18)



19)



20)





Bestimme, ob der gezeigte Winkel 'mehr', 'weniger' oder 'gleich' 90° ist.

Bsp)



1)



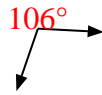
2)

**Antworten**Bsp. weniger1. gleich2. weniger3. mehr4. mehr5. mehr6. gleich7. mehr8. mehr9. gleich10. weniger11. weniger12. gleich13. mehr14. weniger15. gleich16. weniger17. gleich18. mehr19. weniger20. weniger

3)



4)



5)



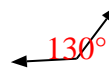
6)



7)



8)



9)



10)




11)



12)



13)



14)



15)



16)



17)



18)



19)



20)

