



Bestimme, ob der gezeigte Winkel 'mehr', 'weniger' oder 'gleich' 90° ist.

Bsp)



1)



2)



Antworten

Bsp. mehr

1. _____

2. _____

3. _____

4. _____

5. _____

6. _____

7. _____

8. _____

9. _____

10. _____

11. _____

12. _____

13. _____

14. _____

15. _____

16. _____

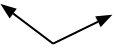
17. _____

18. _____

19. _____

20. _____

3)



4)



5)



6)



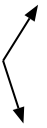
7)



8)



9)



10)



11)



12)



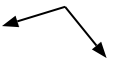
13)



14)



15)



16)



17)



18)



19)



20)





Bestimme, ob der gezeigte Winkel 'mehr', 'weniger' oder 'gleich' 90° ist.

Bsp)



1)



2)

**Antworten**Bsp. mehr1. weniger2. gleich3. mehr4. gleich5. gleich6. weniger7. weniger8. weniger9. mehr10. weniger11. mehr12. weniger13. gleich14. gleich15. mehr16. weniger17. gleich18. gleich19. weniger20. mehr

3)



4)



5)



6)



7)



8)



9)



10)



11)



12)



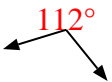
13)



14)



15)



16)



17)



18)



19)



20)

