



Bestimme, ob der gezeigte Winkel 'mehr', 'weniger' oder 'gleich' 90° ist.

Bsp)



1)



2)



**Antworten**

Bsp. gleich

1. \_\_\_\_\_

2. \_\_\_\_\_

3. \_\_\_\_\_

4. \_\_\_\_\_

5. \_\_\_\_\_

6. \_\_\_\_\_

7. \_\_\_\_\_

8. \_\_\_\_\_

9. \_\_\_\_\_

10. \_\_\_\_\_

11. \_\_\_\_\_

12. \_\_\_\_\_

13. \_\_\_\_\_

14. \_\_\_\_\_

15. \_\_\_\_\_

16. \_\_\_\_\_

17. \_\_\_\_\_

18. \_\_\_\_\_

19. \_\_\_\_\_

20. \_\_\_\_\_

3)



4)



5)



6)



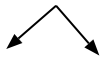
7)



8)



9)



10)



11)



12)



13)



14)



15)



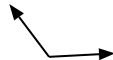
16)



17)



18)



19)



20)





Bestimme, ob der gezeigte Winkel 'mehr', 'weniger' oder 'gleich' 90° ist.

Bsp)



1)



2)

**Antworten**Bsp. gleich1. weniger2. weniger3. weniger4. mehr5. mehr6. weniger7. weniger8. mehr9. gleich10. gleich11. gleich12. weniger13. gleich14. gleich15. mehr16. weniger17. gleich18. mehr19. mehr20. weniger

3)



4)



5)



6)



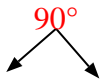
7)



8)



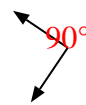
9)



10)



11)



12)



13)



14)



15)



16)



17)



18)



19)



20)

