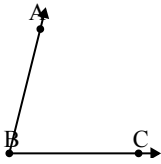




Löse jede Aufgabe.

Antworten

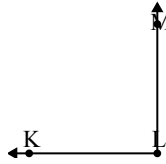
1)



Durch welche
Möglichkeit wird
 $\angle ABC$ dargestellt?

- A. 76°
- B. 138°
- C. 114°
- D. 21°

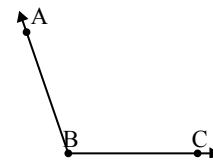
2)



Durch welche
Möglichkeit wird
 $\angle KLM$ dargestellt?

- A. 115°
- B. 34°
- C. 90°
- D. 13°

3)



Durch welche
Möglichkeit wird
 $\angle ABC$ dargestellt?

- A. 78°
- B. 35°
- C. 144°
- D. 109°

1. _____

2. _____

3. _____

4. _____

5. _____

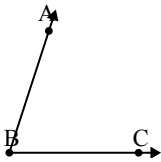
6. _____

7. _____

8. _____

9. _____


4)



Durch welche
Möglichkeit wird
 $\angle ABC$ dargestellt?

- A. 179°
- B. 72°
- C. 22°
- D. 150°

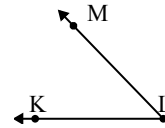
5)



Durch welche
Möglichkeit wird
 $\angle ABC$ dargestellt?

- A. 106°
- B. 11°
- C. 170°
- D. 83°

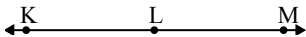
6)



Durch welche
Möglichkeit wird
 $\angle KLM$ dargestellt?

- A. 141°
- B. 46°
- C. 104°
- D. 10°

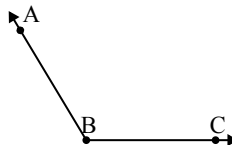
7)



Durch welche
Möglichkeit wird
 $\angle KLM$ dargestellt?

- A. 101°
- B. 71°
- C. 180°
- D. 136°

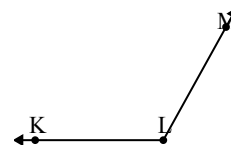
8)



Durch welche
Möglichkeit wird
 $\angle ABC$ dargestellt?

- A. 97°
- B. 156°
- C. 121°
- D. 60°

9)

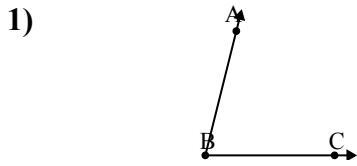


Durch welche
Möglichkeit wird
 $\angle KLM$ dargestellt?

- A. 119°
- B. 4°
- C. 34°
- D. 73°

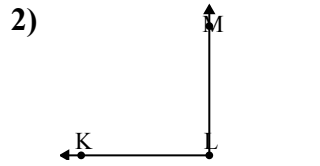


Löse jede Aufgabe.



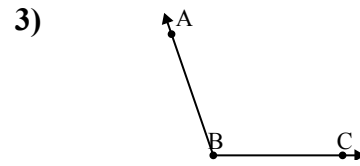
Durch welche
Möglichkeit wird
 $\sphericalangle ABC$ dargestellt?

- A. 76°
B. 138°
C. 114°
D. 21°



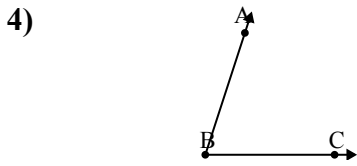
Durch welche
Möglichkeit wird
 $\sphericalangle KLM$ dargestellt?

- A. 115°
B. 34°
C. 90°
D. 13°



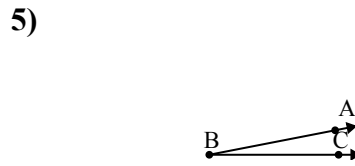
Durch welche
Möglichkeit wird
 $\sphericalangle ABC$ dargestellt?

- A. 78°
B. 35°
C. 144°
D. 109°



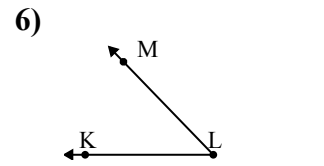
Durch welche
Möglichkeit wird
 $\sphericalangle ABC$ dargestellt?

- A. 179°
B. 72°
C. 22°
D. 150°



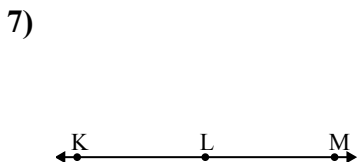
Durch welche
Möglichkeit wird
 $\sphericalangle ABC$ dargestellt?

- A. 106°
B. 11°
C. 170°
D. 83°



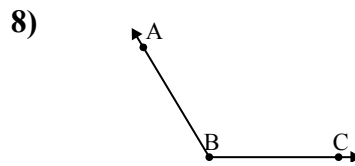
Durch welche
Möglichkeit wird
 $\sphericalangle KLM$ dargestellt?

- A. 141°
B. 46°
C. 104°
D. 10°



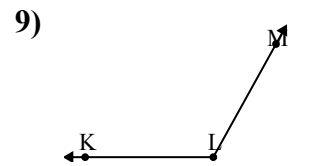
Durch welche
Möglichkeit wird
 $\sphericalangle KLM$ dargestellt?

- A. 101°
B. 71°
C. 180°
D. 136°



Durch welche
Möglichkeit wird
 $\sphericalangle ABC$ dargestellt?

- A. 97°
B. 156°
C. 121°
D. 60°



Durch welche
Möglichkeit wird
 $\sphericalangle KLM$ dargestellt?

- A. 119°
B. 4°
C. 34°
D. 73°

Antworten

1. **A**
2. **C**
3. **D**
4. **B**
5. **B**
6. **B**
7. **C**
8. **C**
9. **A**